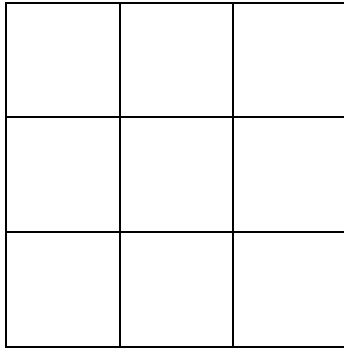


1)



Hvor mange kvadrater er der på billedet?

2) (Svær)

Terrariet I Vissenbjerg lavede en særudstilling af deres slanger og edderkopper. En af gæsterne besluttede at tælle ben og hoveder på de mærkelige dyr. Hun fandt ud af at der var 24 hoveder og 64 ben.

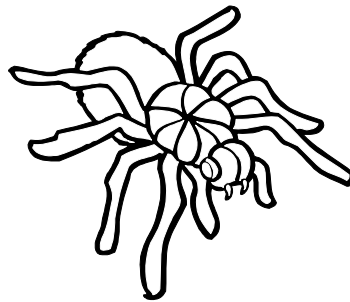
Hun lagde mærke til at alle edderkopperne hver havde 8 ben, og at slangerne ikke havde nogen ben. Selvfølgelig havde både edderkopper og slanger kun et hoved hver.

Hvor mange edderkopper og hvor mange slanger var der i udstillingen?

3)

Afrund til noget man kan betale med.

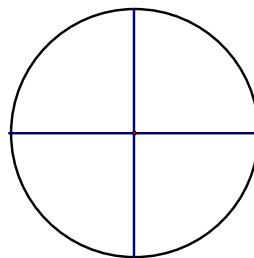
- a) 9,95 kr.  $\approx$  \_\_\_\_\_
- b) 10,05 kr.  $\approx$  \_\_\_\_\_
- c) 7,70 kr.  $\approx$  \_\_\_\_\_
- d) 4,12 kr.  $\approx$  \_\_\_\_\_
- e) 4,13 kr.  $\approx$  \_\_\_\_\_
- f) 3,37 kr.  $\approx$  \_\_\_\_\_



4)

Denne cirkel er delt i hvor mange dele? \_\_\_\_\_

Hvad kalder man en del? \_\_\_\_\_



5)

En sen aften skulle Anette skrive en opgave til skolen.

Hun var sent på den, så hun skrev fra klokken 21 til klokken 2.

Hvor mange timer skrev Anette?

6)

Omskriv til minutter:

- a) 1 time og 35 minutter = \_\_\_\_\_
- b) 3 timer = \_\_\_\_\_
- c) 2 timer og 13 minutter = \_\_\_\_\_